



教師用DVD

# 「お役に立ちMAX2」 のご紹介



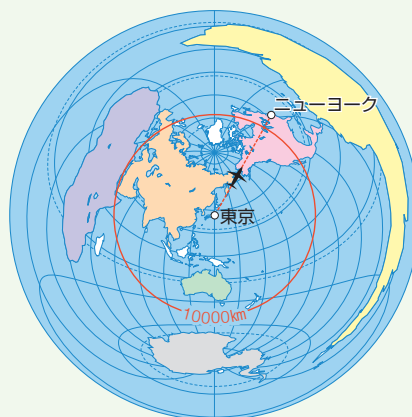
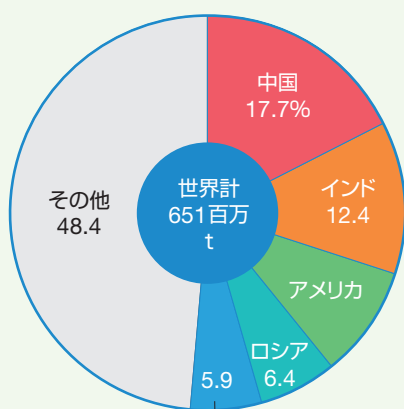
- ・ モノクロ図版 …………… 2 ページ
- ・ 10 分単元プリント …………… 3 ページ
- ・ 20 分県別プリント …………… 4 ページ
- ・ とことん漢字プリント …………… 5 ページ
- ・ 白地図 …………… 6 ページ
- ・ フリーイラスト …………… 7 ページ
- ・ 小テストつくる …………… 8 ページ



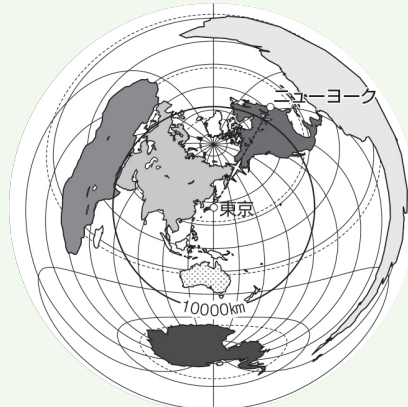

## モノクロ図版

- 「完全学習」「基本から発展へ」の本誌に出てくる図版を、全点収録しました。
- モノクロで収めているため、テストをつくるときに Word や 一太郎 に貼り付けやすくなっています。

本誌の図版



DVDに収録された図版



jpegデータなので、編集も自由自在！

白黒コピーだと見分けがつかない大陸も、きれいに再現



# 10分単元プリント

- 地理，歴史，公民の全範囲を，全 63 回で確認できる小テストです。
- 1回 10 分で終わるので，授業の中でも無理なく取り組みます。
- 授業のほか，テスト前の宿題，自習時間など，様々な場面でご利用いただけます。


	名前	得点	点
<b>1</b> 地球のすがた			
<b>1</b> 次の資料を見て，各問いに答えなさい。			10点×10=100点
(1) 世界の六大大陸のうち，資料1に示さ れていない大陸名を書きなさい。			
(2) 資料1のA～Cの三大洋のうち，最 も面積の広い海洋を選び，①記号と， ②海洋名を書きなさい。(完答)	<span>①</span> <span>②</span>		
(3) 世界の海洋の面積は，陸地の面積のおよそ何倍ですか。次のア～ウから選び，記号を書きなさい。 ア 2.3倍 イ 3.3倍 ウ 4.3倍			
(4) 資料1の経線，緯線について，次の問いに答えなさい。			
① 赤道にあたる緯線を資料1のア～エから選び，記号を書きなさい。			
② 0度の経線aを何といいますか。			
③ 0度の経線aが通っているイギリスの首都名を書きなさい。			
④ 赤道は北緯・南緯をそれぞれ□X度に分けています。いっぽう経線aは，東経・西経をそれぞれ□Y度に分けています。X・Yにあてはまる数字をそれぞれ書きなさい。(完答)	<span>X</span> <span>Y</span>		
(5) 地球上に春夏秋冬の四季がある理由を，資料2の地球儀の傾きと太陽の光の当たる方向を見て説明しなさい。			
(6) 資料2の地球儀に見られないものを次のア～オから二つ選び，記号を書きなさい。(完答) ア 太平洋 イ 大西洋 ウ インド洋 エ アフリカ大陸 オ ユーラシア大陸	<span></span> <span></span>		
(7) 資料2の地球儀を見て，日本と同じ経度に位置し，かつ南半球に位置する大陸名を書きなさい。			

10点×10問  
なので  
採点も楽々

観点別に  
採点でき，  
評価にも使える



| 10分単元プリント |



## 20分県別プリント

- 全47都道府県を、それぞれ2ページで学習できるプリントです。
- 1回20分で終わるので、地理の授業の中でも無理なく取り組みます。
- 地理の「日本の諸地域」「身近な地域の調査」の授業のほか、県立入試対策にもご利用いただけます。

名前
得点
点

都道府県別
岐阜県

各5点×20=100点

**1 【自然】** 次の各問いに答えなさい。

(1) 岐阜県のように、まわりを陸地に囲まれ、海に面していない県を何といいますか。

(2) 岐阜県は7県と境を接しています。そのうち、資料1のA・Bの県名をそれぞれ書きなさい。

(3) 次の文を参考に、資料1の①～④の名称をそれぞれ書きなさい。

① 岐阜県の北西部から、富山県・石川県・福井県の3県にまたがる山地。この山地の北部のふもとには、世界遺産に登録されている白川郷がある。

② 伊勢湾に注ぐ木曾三川によって運ばれた土砂が堆積して形成された平野。岐阜県の県庁所在地である岐阜市や、愛知県の県庁所在地である名古屋が位置する。

③ 木曾川・揖斐川とならんで木曾三川の一つに数えられる河川。鶴という鳥を使って魚をとる「鶴飼」で古くから有名である。

④ だいこんやほうろくそうなどの生産がさかんな飛騨地方の盆地。

(4) 資料1の②で見られる、水害防止のために宅地や耕地の周囲に堤防をめぐらした地域を何といいますか。漢字2字で書きなさい。



資料1

(1) \_\_\_\_\_

(2) A \_\_\_\_\_  
B \_\_\_\_\_

(3) ① \_\_\_\_\_  
② \_\_\_\_\_  
③ \_\_\_\_\_  
④ \_\_\_\_\_

**3 【工業・交通】** 次の各問いに答えなさい。

(1) 資料1のAは、日本最大の製造品出荷額をほこる工業地帯を示しています。この工業地帯を何といいますか。

(2) 資料2のX・Yにあてはまる工業地帯の〔 〕からそれぞれ選びなさい。

(3) 資料1のBは新幹線を示しておいて、その線内では岐阜羽島駅が、新幹線の唯一の駅です。Bの名称を書きなさい。

(4) 資料1のCで示した、愛知県一宮市と富山県砺波市とを結ぶ高速道路を何といいますか。次の〔 〕から一つ選びなさい。

〔 名神高速道路 北陸自動車道 中央自動車道 東海北陸自動車道 〕

(5) 資料3のグラフの数値をもとに、2010年に岐阜県から名古屋市に流入してきた人口は何人だったか、書きなさい。

(6) 資料1のDの都市では、春と秋に山車とよばれる華麗な屋台をひいて町を練り歩く祭りが行われています。古い町並みが残ることから飛騨の小京都ともよばれるDの都市名を、次の〔 〕から一つ選びなさい。

〔 郡上 高山 大垣 徳田 〕

(7) 多治見市や土岐市など、岐阜県の南東部で焼かれている伝統的工芸品に指定された陶磁器を何といいますか。

(8) 岐阜県では、(7)の陶磁器をはじめ、(6)の都市の漆器、関市の刃物、美濃市の和紙など、地元の資源や労働力を使って特産品を生産する産業が各地でさかんです。このような産業を何といいますか。

(9) 岐阜県には多くの観光地があります。その中の一つについて述べた次の文のPにあてはまる語句を書きなさい。

1995年、富山県の五箇山と岐阜県の白川郷にある(P)造りの集落が、ユネスコの採択する世界文化遺産に登録された。これにより、白川郷には国内外から、数多くの観光客が訪れるようになった。



資料2 岐阜県の工業出荷額割合

X	15.2%	プラスチック製品
Y	8.1%	食品
Z	7.6%	金属製品
その他	55.2%	
2011年	5.0%	生産用機械
	6.8%	
	7.1%	

(〔データである関係])

(1) \_\_\_\_\_ 工業地帯

(2) X \_\_\_\_\_  
Y \_\_\_\_\_

(3) \_\_\_\_\_ 新幹線

(4) \_\_\_\_\_

(5) \_\_\_\_\_ 人

(6) \_\_\_\_\_ 市

(7) \_\_\_\_\_

(8) \_\_\_\_\_

(9) \_\_\_\_\_ 造り

5点×20問なので採点も楽々

**2 【農業】** 次の各問いに答えなさい。

(1) 資料1のYにあてはまる農産物を、次の〔 〕から一つ選びなさい。

資料1 岐阜県の農産物産出額割合



資料1

米	18.9%	V	22.3%
野菜	24.6%	X	29.5%
畜産	4.5%	Y	4.5%
果実		Z	

(〔データである関係])

(2) 土地面積に対する耕地面積の割合を、耕地率といいます。全国平均の耕地率が12.2%であるのに対して、岐阜県の耕地率は5.4%です(2011年)。岐阜県の耕地率が低い理由を、資料1の②を使って簡潔に説明しなさい。

県の資料が豊富で、資料活用問題対策にも

【20分県別プリント-岐阜県】

- 4 -



# とことん漢字プリント

- 地理，歴史，公民の難しい漢字を，全 42 回で練習できるプリントです。
- 社会科の重要語句を，各 3 回書けるので，確実に習得できます。
- テスト前の宿題，自習時間など，様々な場面でご利用いただけます。

とことん漢字プリント 名前 \_\_\_\_\_

**歴史編 5** ▶ **モンゴル襲来と室町幕府** ☆一度目はなぞり書き，二・三度目はていねいに書いてみよう。

<p>① げんこう</p> <p>いひかな 元寇 <span style="border: 1px solid black; padding: 2px;">×寇</span></p> <p>ひらがな</p> <p>ひらがな</p>	<p>⑥ かんごうぼうえき</p> <p>いひかな 勘合貿易</p> <p>ひらがな</p> <p>ひらがな</p>
<p>② ごだいごてんのう</p> <p>いひかな 後醍醐天皇</p> <p>ひらがな</p> <p>ひらがな</p>	<p>⑦ りゅうきゅうおうこく</p> <p>いひかな 琉球王国 <span style="border: 1px solid black; padding: 2px;">×流</span></p> <p>ひらがな</p> <p>ひらがな</p>
<p>③ けんむのしんせい</p> <p>いひかな 建武の新政</p> <p>ひらがな</p> <p>ひらがな</p>	<p>⑨ いっき</p> <p>いひかな 一揆</p> <p>ひらがな</p> <p>ひらがな</p>
<p>④ あしかがよしみつ</p> <p>いひかな 足利義満</p> <p>ひらがな</p> <p>ひらがな</p>	<p>⑩ げこくじょう</p> <p>いひかな 下剋上 <span style="border: 1px solid black; padding: 2px;">剋→「打ち勝つ」の意味だよ。</span></p> <p>ひらがな</p> <p>ひらがな</p>
<p>⑤ わこう</p> <p>いひかな 倭寇 <span style="border: 1px solid black; padding: 2px;">×倭</span></p> <p>ひらがな</p> <p>ひらがな</p>	

1 回目はなぞり書きなのでだれでも書ける！

誤答例も紹介

| とことん漢字プリント |

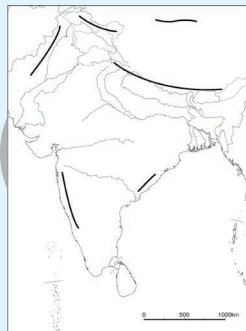
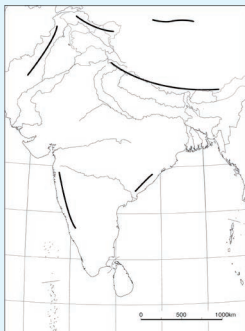


## 白地図

- 世界と日本の白地図を、約 400 点収録しました。
- モノクロで収めているため、自作のプリントなどをつくるときに Word や 一太郎 に貼り付けやすくなっています。
- 世界全図、世界の州、主な国、日本全図、日本の地方、全都道府県など、様々なパターンをご用意しています。



高精細で  
コピーも  
しやすい！



すべて、  
経緯線や地形の  
有無を  
選べる！



## フリーイラスト

- モノクロのイラストを、約 1000 点収録しました。
- 歴史の人物は 200 点新しく描き下ろしました。





## 小テストつくる

- 問題番号をふるだけで、美しい小テストが作れる自動作成ソフトです。
- あらかじめソフトで用意された問題の改変ができ、自作の問題も入れられます。
- 作成中の画面は保存ができ、翌年も同じテストを呼び出すこともできます。

Teachers' DVD  
お役に立ちMAX 2

正進社  
SEISHINSHA

小テストつくる

HOME 小テストつくる

問題の完成 解答の完成

B5 B5小 B5 B5小

保存 呼び出し

入力欄 問題文

政治

1 国民や住民が、話し合いや決議に直接参加する制度を

2 選挙で選ばれた代表者が、議会で話し合って決める制度

3 意見が一致しないとき、最後は多数の意見を採用する

4 議会において、同じ理念や政策を持つ人々が集まってつ

5 アメリカのように2大政党が議席のほとんどをしめる政党政

6 日本のように三つ以上の主要政党が存在する政党政治

7 内閣を組織して政権をなう政党を何といいますか。

8 政権をなうならず、政権の批判や監視を行う政党を何

9 複数の政党によって組織される政権を何といいますか。

10 各政党が選挙前に発表し、政権を担当した際の政策や

11 議決の総以上のすべての国民に選挙権がある選挙を何とい

12 選挙権を持つ人はすべて一人一票を持つ選挙を何とい

13 有権者が議員を直接選ぶ選挙を何といいますか。

14 自分の名前を記入せずに投票を行う選挙を何といいま

15 一つの選挙区から一人の代表を選ぶ選挙制度を何とい

MINI TEST

社会の  
重要用語小テスト

月 日 年 得点 /10

組 名前

番

次の各問いに答えなさい。

- 国民や住民が、話し合いや決議に直接参加する制度を何といいますか。 1 \_\_\_\_\_
- 議会において、同じ理念や政策を持つ人々が集まってつくる団体を何といいますか。 2 \_\_\_\_\_
- アメリカのように2大政党が議席のほとんどをしめる政党政治の形態を何といいますか。 3 \_\_\_\_\_
- 内閣を組織して政権をなう政党を何といいますか。 4 \_\_\_\_\_
- 複数の政党によって組織される政権を何といいますか。 5 \_\_\_\_\_
- 各政党が選挙前に発表し、政権を担当した際の政策や財源などを記したものを何といいますか。 6 \_\_\_\_\_
- 選挙権を持つ人はすべて一人一票を持つ選挙を何といいますか。 7 \_\_\_\_\_
- 有権者が議員を直接選ぶ選挙を何といいますか。 8 \_\_\_\_\_
- 自分の名前を記入せずに投票を行う選挙を何といいますか。 9 \_\_\_\_\_
- 一つの選挙区から一人の代表を選ぶ選挙制度を何といいますか。 10 \_\_\_\_\_

ここに数字をふるだけで…

こんなにきれいな小テストが！