

教師用に無料でDVDが1枚付属します

「お役に立ちMAX」 完全リニューアル!!

Request >>>

>>> Answer



本誌の図を改変できたらいいのに…

☞「図版いじえる」で、編集できるようになりました

p.2



小テストはWordで自作してます

☞「小テストつくる」なら、問題を選ぶだけで完成です

p.4



テスト対策に、ワークとちがう問題をやらせたい

「漢字で書きなさい。」の問題が苦手な生徒が多い

諸地域で、わが県の問題を集めて学習させたい

☞それぞれプリントを、3学年分収録しています

p.6,7



ネットで見つけた地図は、正しいのか不安です

イラストは勝手に使っていいのでしょうか…

☞正進社のデータは、正確で著作権フリーです

p.8

このDVDの内容がインターネット上でも
見られるようになりました

DVDドライブなし
でも見られる!

自宅のパソコンでも
作業ができる!

正進社.net

検索



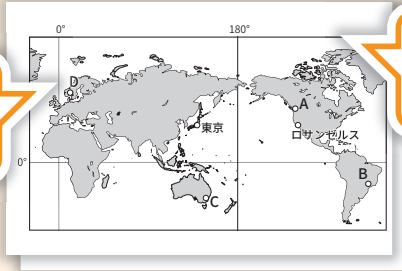
編集
できる

モノクロ図版+図版いじーる

JPG

- ✓ 「社会の完全学習」のすべての図を、モノクロにして収録しています。
- ✓ 図はすべて編集ソフト「図版いじーる」で変更ができます。
- ✓ 「小テストつくる」(p.4)や「白地図データ」(p.8)の図も、「図版いじーる」で変更できます。

オススメ!
コピーしても
つぶれません



本誌の全図版を
収録しています
オススメ! 編集できます!



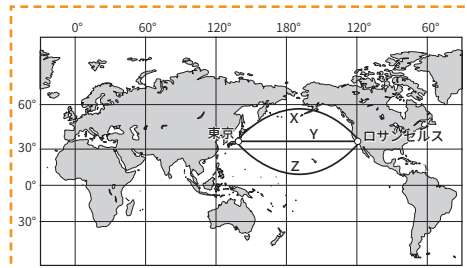
コレもできる!

図版やPDFは「お気に入り」ボックスに保存できます。
どの図を使うかあとで検討するときに便利です。

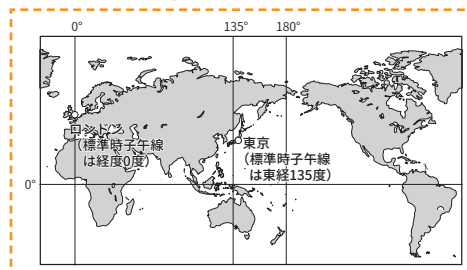
※「お気に入り」「図版いじーる」のご利用にはインターネット接続が必要です。

作成例

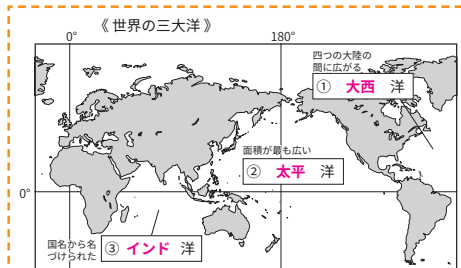
【問1】 東京からロサンゼルスへの最短航路を、
地図のX~Zから一つ選びなさい。



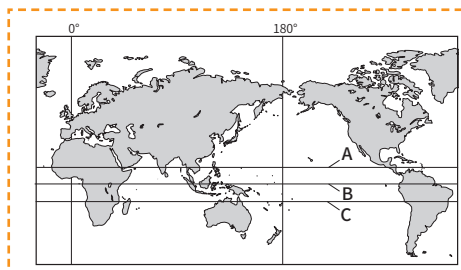
【問3】 東京が4月1日午後3時のときのロ
ンドンの日時を、地図を見て書きなさい。



【問2】 下の地図の①~③にあてはまる大洋名
を、それぞれ書きこみなさい。



【問4】 下の地図のA~Cの緯線のうち、赤道
を示すものの記号を一つ選びなさい。



できあがり!

コレもできる!

図の縦と横の大きさを自由に変更できます。Wordなどに
挿入する際の調整が不要になり、作業時間が短縮できます。

オススメ!
インストール
不要!

図版いじーる操作画面

現在、文字ボックスを選択中です。ダブルクリックで文字の打ち替えができます。
また、右の「編集する」の「文字」から、文字サイズや色の変更などができます。

1 文字や図を選択する

2 文字を作成する

3 編集する

基本操作

- 戻る
- 進む
- 複製する
- 削除する
- 前面にする
- 背面に隠す
- グループ化
- グループ解除

文字

- 文字サイズ: 標準 (9pt)
- 文字の太さ: 標準
- 斜体にする: しない
- 文字線を引く: 下線
- 文字の色: [色選択]

線・枠

- 線・枠の太さ: 標準
- 線・枠の色: 色つき
- 枠の中の色: 透明

表示

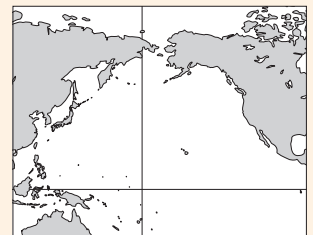
- グリッド表示: しない
- 表示サイズ: + 拡大, 0 原寸大, - 縮小

もうペイントを使わずにすむ!

機能

1 選択する

マウスを押し、図形や文字をクリック
します。ダブルクリックで文字を
打ち替えられます。ドラッグで移
動や拡大・縮小もできます。



2 作成する

図形や文字を新たに加えること
ができます。作成した図形の位
置や大きさの調整は、マウスで選択
してから行います。



3 編集する

マウスで選択された図形や文字の
色、線の太さを変更できます。
図形の前後の入れ替えや削除
もできます。



全
1800問

小テストつくる

教師用あり PDF
B5判 B5小判

- ☑ にチェックを入れるだけで完成する小テスト自動作成ソフトです。
- ☑ 問題は自由に編集できます。お手持ちの図版を入れた問題の作成も可能です。
- ☑ 作成した小テストは保存して、翌年以降もご使用いただけます。

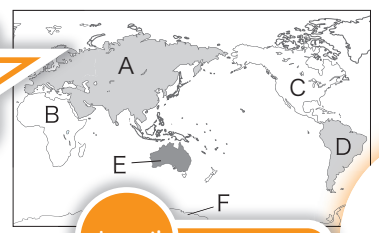
重要用語小テスト 〈世界の姿〉

No.01

得点
月 日 / 10
名前
組 番

☑ 次の各問いに答えなさい。

1 次の地図のAにあてはまる大陸名を書きなさい。

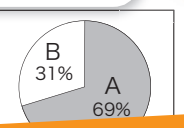


1 ユーラシ

2 世界最大の海洋を何と

2 太平洋

3 次のグラフは、地球の表面積に占める、陸地と海洋の割合を示しています。A・Bのうち、海洋にあてはまるものを選びなさい。



4 左の図に書きこみなさい



4 次の地図中に、緯度0度の赤道を書きこみなさい。

5 1の地図は、緯線と経線が直角に交わる図法でえがかれています。この地図は他の地図と比べ、どのような欠点がありますか。「緯度」「面積」の語句を使って説明しなさい。

5

正進社
だけ!!
「B5小」を選べば、
ノートに貼れる大きさに

オススメ!
解答入りも
出力できます

授業の始めに実施して、ノートに貼らせています

👍 コレもできる!

つくったテストを保存できるので、翌年に同じテストをボタン一つで呼び出して利用できます。呼び出したテストは再び編集することができます。

「選択」の☑を押すと問題を選ぶことができます
編集 ボタンを押すと問題・図・解答を変えられます

STEP 1

地理編 歴史編 公民編 すべて

世界の姿

選択	編集	問題文	解答	種数
<input checked="" type="checkbox"/>	編	次の地図のAに当てはまる大陸名を書きなさい。	ユーラシア大陸	3
<input checked="" type="checkbox"/>	編	世界最大の海洋を何と	太平洋	1
<input type="checkbox"/>	編	南アメリカ大陸とアフリカ大陸の間に広がる海洋を何と	大西洋	1
<input type="checkbox"/>	編	三大洋の中で面積が最も小さく、ある国から名付けら	インド洋	1
<input type="checkbox"/>	編	地球の表面積の約7割をしめるのは、海洋と陸地のどち	海洋	1
<input checked="" type="checkbox"/>	編	次のグラフは、地球の表面積に占める、陸地と海洋の割合を示しています。A・Bのうち、海洋にあてはまるものを	A	2
<input type="checkbox"/>	編	16方位で示したとき、西と南西の間にあたる方位を何	西南西	1
<input checked="" type="checkbox"/>	編	次の地図中に、緯度0°の赤道の位置を書き込みなさい。		2
<input type="checkbox"/>	編	0度の緯線を何と		1
<input checked="" type="checkbox"/>	編	次の地図の図法の欠点を、「緯度」「面積」の語句で説明しなさい。		2

STEP 2

👍 コレもできる!
編集ボタンを押すと、問題や解答を自由に書きかえられます。図版を選択して、資料の読み取り問題や、図に答えをかきこむ問題も作成できます。

正進社
だけ!!
図入りの
問題も作成できます

でき あがり!

👍 コレもできる!

編集ボタンを押すと、問題や解答を自由に書きかえられます。図版を選択して、資料の読み取り問題や、図に答えをかきこむ問題も作成できます。

使い方

STEP 1 単元を選ぶ

タブから目的の単元にチェックを入れます。複数単元にまたがる小テストを作成したいときは、「すべて」を選んで下さい。



STEP 2 問題を選ぶ

「選択」の☑を押すと問題を選べます。問題の順序変更や削除は、右側の ^ v 〇 で行えます。選び終えたら、右下の「問題のプレビュー」を押して完成です。

10分単元プリント

教師用あり B5判
Word PDF

- ✓ 地歴公の各単元を、1回10分で実施できるチェックプリントです。
- ✓ 範囲が細かく区切れており、定期テストへの出題にも便利です。

名前 _____ 得点 _____ 点

地理編 1 地球のすがた

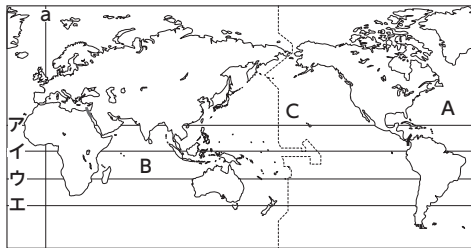
知 _____ 点
技 _____ 点
思 _____ 点

1 次の資料を見て、各問いに答えなさい。 10点×10=100点

(1) 世界の六大大陸のうち、資料1に示されていない大陸名を書きなさい。

(2) 資料1のA～Cの三大洋のうち、最も面積の広い海洋を選び、①記号と、②海洋名を書きなさい。(完答)

① ②



(3) 世界の海洋の面積は、陸地の面積のおよそ何倍ですか。次のア～ウから適切な記号を書きなさい。
ア 2.3倍 イ 3.3倍 ウ 4.3倍

オススメ! 10点×10問なので採点も楽々!

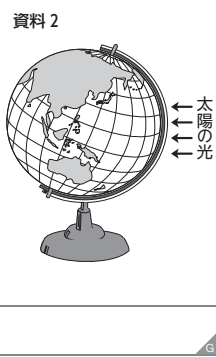
(4) 資料1の経線、緯線について、次の①～④に答えなさい。

- 赤道にあたる緯線を資料1のA～エから選んで書きなさい。
- 0度の経線aを何といいますか。
- 0度の経線aが通っているイギリスの首都を資料1のA～エから選んで書きなさい。
- 赤道は北緯・南緯をそれぞれX度に分けています。いっぽう経線aは、東経・西経をそれぞれY度に分けています。X・Yにあてはまる数字をそれぞれ書きなさい。(完答)

オススメ! 易しい問題が多いので自信がつく

X Y

(5) 地球上に春夏秋冬の四季がある理由を、資料2の地球儀の傾きと太陽の光の当たる方向を見て説明しなさい。



『ここから何問か出すよ』と言って、定期テスト前に宿題でやらせている

- 資料2
- (6) 資料2の地球儀を見て、日本と同じ経度に位置し、かつ南半球に位置する大陸名を書きなさい。
- ア 太平洋 イ 大西洋 ウ インド洋
エ アフリカ大陸 オ ユーラシア大陸
- (7) 資料2の地球儀を見て、日本と同じ経度に位置し、かつ南半球に位置する大陸名を書きなさい。

10分漢字プリント

B5判 PDF

- ✓ 地歴公の難しい漢字を、1回10分で練習できるプリントです。
- ✓ 「漢字で書きなさい。」と問われる問題も、これで安心です。

名前 _____ 得点 _____ 点

歴史編 5 モンゴル襲来と室町幕府

知 _____ 点
技 _____ 点
思 _____ 点

10分漢字プリント

1 げんこう 2 ごだいご 3 かんごうぼうえき 4 ちゅうぎょう 5 せいぎ 6 かんごうぼうえき 7 りゅうぎやう

元寇

勘合貿易

オススメ! 使用例の中で語句を覚えられます

15世紀初め、倭寇と区別するために証明書を用いる()が始まった。

後醍醐天皇

「ごだいご」では、後々こまる

20分県別プリント

教師用あり B4判
PDF

- ✓ 全都道府県の県別学習を、1回20分で実施できるプリントです。
- ✓ 「日本の諸地域」「地域の調査」の授業のほか、公立入試対策にもご利用ください。

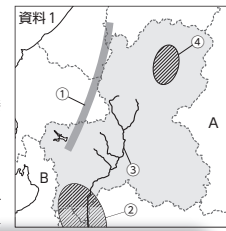
名前 _____ 得点 _____ 点

都道府県別 岐阜県

各5点×20=100点

1 【自然】次の各問いに答えなさい。

- (1) 岐阜県のように、まわりを陸地に囲まれ、海に面していない県を何といいますか。
- (2) 岐阜県は7県と境を接しています。そのうち、資料1のA・Bの県名をそれぞれ書きなさい。
- (3) 次の文を参考に、資料1の①～④の名称をそれぞれ書きなさい。



- (1)
- (2) A 県
B 県
- (3) ① 山地
② 平野
③ 川
④ 盆地

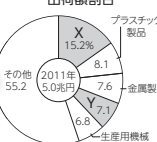
オススメ! 5点×20問なので採点も楽々!

3 【工業・交通】次の各問いに答えなさい。

- (1) 資料1のAは、日本最大の製造品出荷額をほこる工業地帯を示しています。この工業地帯を何といいますか。
- (2) 資料2のX・Yにあてはまる工業を、次の〔 〕からそれぞれ選びなさい。
〔 窯業・土石 食料品 輸送用機械 印刷 〕
- (3) 資料1のBは新幹線を示しており、岐阜県内では岐阜羽島駅が、この新幹線の唯一の駅です。Bの名称を書きなさい。



資料2 岐阜県の工業出荷額割合



オススメ! 県の資料を豊富に掲載

① 木曾川・揖斐川とならんで木曾三川の一つに数えられる河川。鵜という鳥を使って魚をとる

② 形成された平野。岐阜県の県庁所在地である岐阜市が位置する。

③ 中央自動車道

約
400点

白地図データ

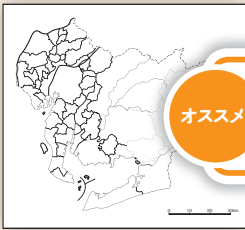
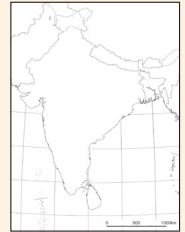
JPG

- ✓ プロ品質の白地図データを、モノクロで収録しています。
- ✓ 世界全図、州、国、日本全図、日本の地方、全都道府県に分類されています。



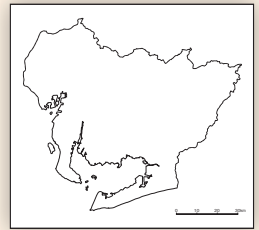
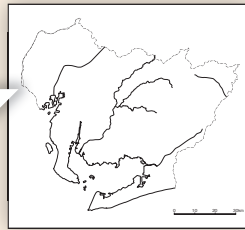
オススメ!

「図版いじーる」
で変更できます



オススメ!

市町村界や地形の
有無を選べます



約
1000点

フリーイラスト

JPG

- ✓ プリント作成に便利なイラストを、モノクロで収録しています。
- ✓ 歴史人物は全200人! 教科書に出てくるほとんどの人物が網羅されています。

